



Dr. Enyedy Andor Református Általános Iskola, Óvoda és Bölcsőde
3450 Mezőcsát Szent István út 1-2.

web: tordafejed.csatirefi.hu e-mail: enyedy.mezocsat@freemail.hu

Törd a fejed! tehetséggondozó matematika verseny

4.osztály 1.forduló, 2016.november


Versenyző neve:

Iskolája:

1. Melyik szám illik a kérdőjel helyére?

1	5	9
9	6	3
3	7	?

2. Hány különböző sorrendje van két fehér és két fekete golyónak?



(A) 4

(B) 5

(C) 6

(D) 8

(E) 12



Dr. Enyedy Andor Református Általános Iskola, Óvoda és Bölcsőde
3450 Mezőcsát Szent István út 1-2.

web: tordafejed.csatirefi.hu e-mail: enyedy.mezocsat@freemail.hu

Törd a fejed! tehetséggondozó matematika verseny

4.osztály 1.forduló, 2016.november

Versenyző neve:

Iskolája:

3. Melyik szám illik a kérdőjel helyére?

7	4	5
8	8	16
3	3	?

4. A lenti ábra feldarabolható három darab azonos nagyságú és egyforma részre.
Milyen alakúak ezek?



Dr. Enyedy Andor Református Általános Iskola, Óvoda és Bölcsőde
3450 Mezőcsát Szent István út 1-2.


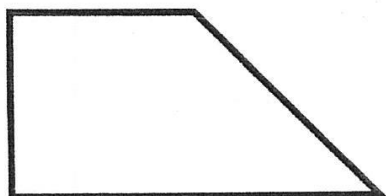
web: tordafejed.csatirefi.hu e-mail: enyedy.mezocsat@freemail.hu

Törd a fejed! tehetséggondozó matematika verseny


4.osztály 1.forduló, 2016.november

Versenyző neve:


Iskolája:




(A)



(B)



(C)



(D)