



Dr. Enyedy Andor Református Általános Iskola, Óvoda és Bölcsőde
3450 Mezőcsát Szent István út 1-2.

web: tordafejed.csatirefi.hu e-mail: enyedy.mezocsat@freemail.hu


Törd a fejed! tehetségdonozó matematika verseny

5.osztály 1. forduló, 2016.november

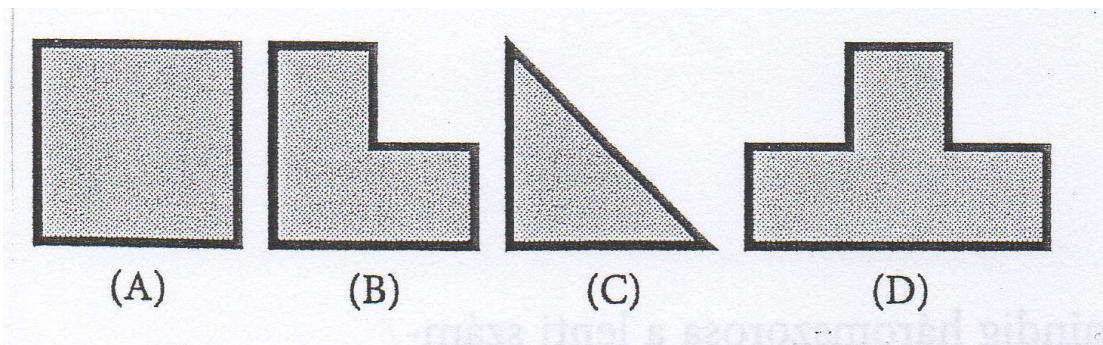

Versenyző neve:

Iskolája:

1. Ha az egyik dominót megfordítjuk fejjel lefelé, akkor ugyanannyi lesz a pöttyök összege a felső sorban és az alsó sorban. Melyik ez a dominó? Karikázd be!



2. A lenti ábra feldarabolható három darab azonos nagyságú és egyforma alakú részre. Milyen alakúak ezek?





Dr. Enyedy Andor Református Általános Iskola, Óvoda és Bölcsőde
3450 Mezőcsát Szent István út 1-2.

web: tordafejed.csatirefi.hu e-mail: enyedy.mezocsat@freemail.hu

Törd a fejed! tehetséggondozó matematika verseny

5.osztály 1. forduló, 2016.november


Versenyző neve:

Iskolája:

3. Melyik szám illik a kérdőjel helyére?

6	27	9
2	9	?

4. Hány különböző sorrendje van két fehér és két fekete golyónak, ha a fekete golyók nem lehetnek egymás mellett?



(A) 1

(B) 2

(C) 3

(D) 4

(E) 5

5. Melyik szám illik a kérdőjel helyére?

2	5	10
4	3	12
3	5	?