



Törd a fejed! tehetséggondozó matematika verseny

2. osztály 2. forduló, 2016. december

Versenyző neve:

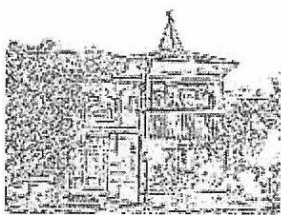
Iskolája:

1. Számolj a nyilak szerint!

		➡	+	1	8				⬇	-	1	3		
--	--	----------	----------	----------	----------	--	--	--	----------	----------	----------	----------	--	--

30	→	48	→		→	
↓		↓		↓		↓
17	→		→		→	
↓		↓		↓		↓
	→		→		→	58

43	→	61	→		→	
↓		↓		↓		↓
30	→		→		→	
↓		↓		↓		↓
	→		→		→	71



Dr. Enyedy Andor Református Általános Iskola, Óvoda és Bölcsőde
3450 Mezőcsát Szent István út 1-2.

web: tordafejed.csatirefi.hu e-mail: enyedy.mezocsat@freemail.hu

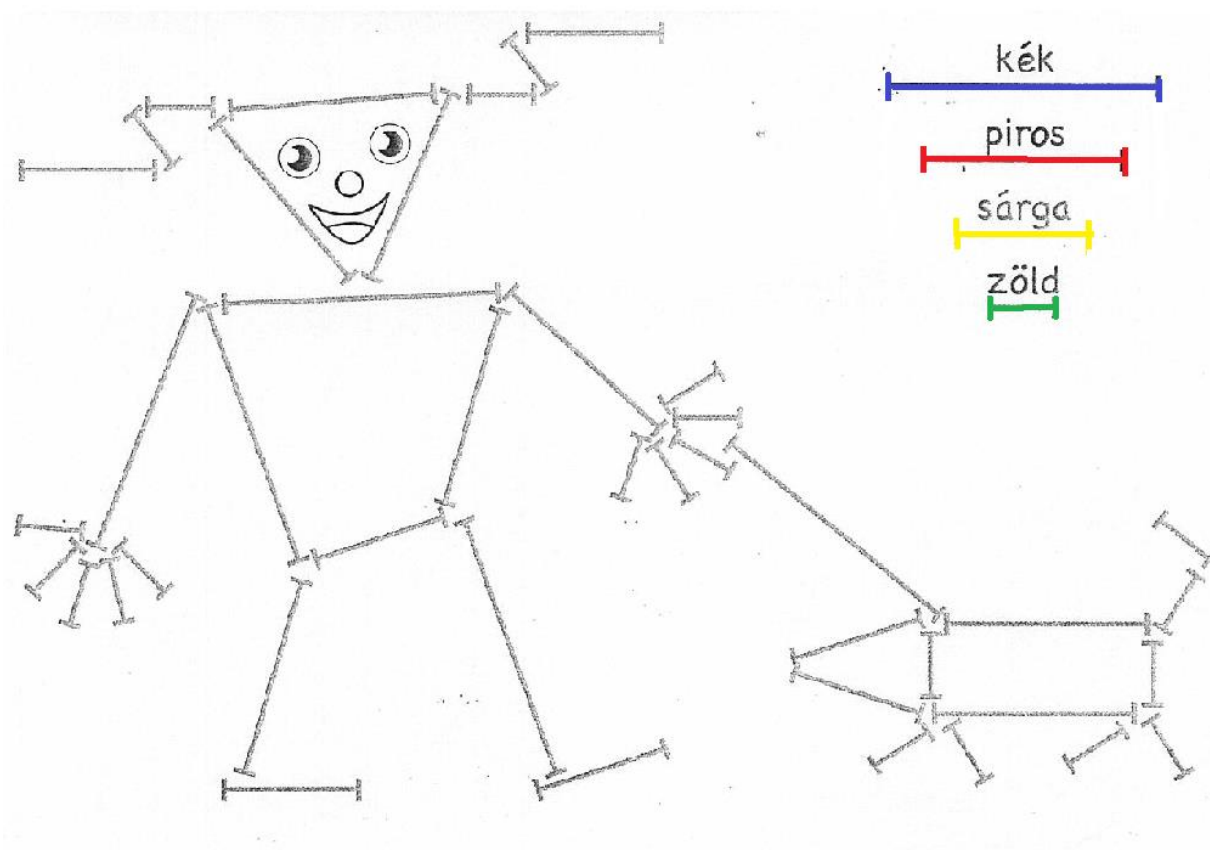
Törd a fejed! tehetséggondozó matematika verseny

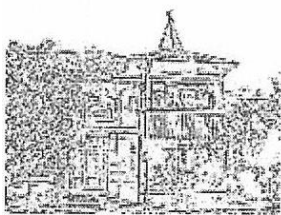
2. osztály 2. forduló, 2016. december

Versenyző neve:

Iskolája:

2. Rajzold át a megadott színekkel az ábrát!





Dr. Enyedy Andor Református Általános Iskola, Óvoda és Bölcsőde
3450 Mezőcsát Szent István út 1-2.

web: tordafejed.csatirefi.hu e-mail: enyedy.mezocsat@freemail.hu

Törd a fejed! tehetséggondozó matematika verseny

2. osztály 2. forduló, 2016. december

Versenyző neve:

Iskolája:

3. Milyen számok vannak elrejtve a képen? Add is össze őket!

